

# 千歳科学技術大学

## eラーニングシステムをご活用ください!

### eラーニングシステムとは

インターネットに接続したPCやタブレット、スマートフォンなどを利用して行う学習のことです。算数・数学、理科、社会のほか、英検の学習もできます。

釧路市の全ての小・中学校において、子供たち一人ひとりが活用できるよう登録していますので、ご家庭でぜひ活用してください。

※なお、個人の「アカウント」と「パスワード」は学校からお伝えします。

### [eラーニングシステムに入ってみよう!]

①「北海道教育委員会」のホームページを開きます。

画面の右側の「子ども向けページ」をクリック!

②次に出てくる画面の「利用者はこちら」をクリックし、学校より配付された「アカウント」「パスワード」を入力し、ログインします。

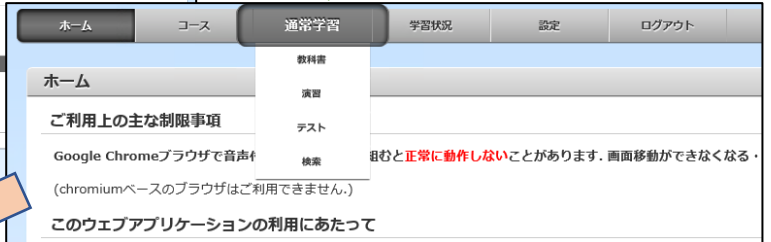
「利用者はこちら」をクリック!

「アカウント」と「パスワード」を入力し、ログインします。

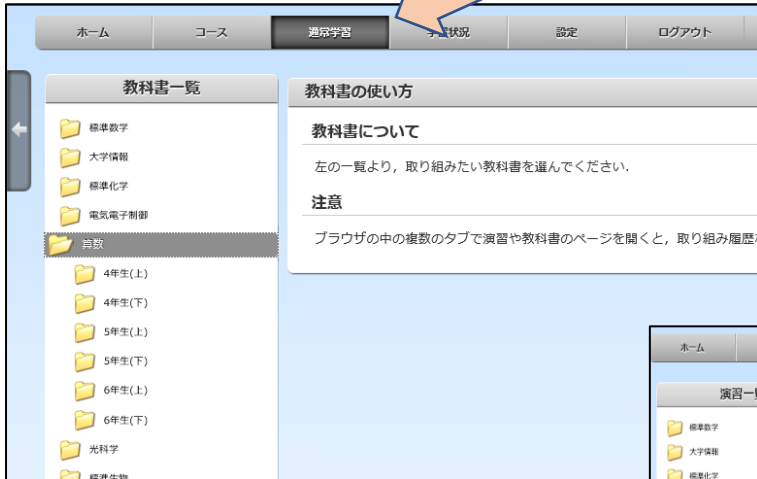
③次に、このような画面が出てきます。



「コース」や「通常学習」, 「学習状況」などメニューが選べます。



たとえば・・・



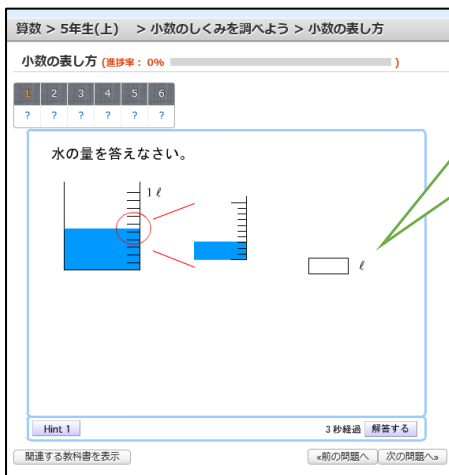
「通常学習」をクリックし、「教科書」を選択すると、教科書の一覧が示されます。取り組みたい教科書を選べると、その教科書の学習のしかたを見ることができます。

「演習」を選べると、教科や学年、単元を選べることができます。ここまでくれば、取り組みたい演習を選んで、学習をスタートさせることができます。



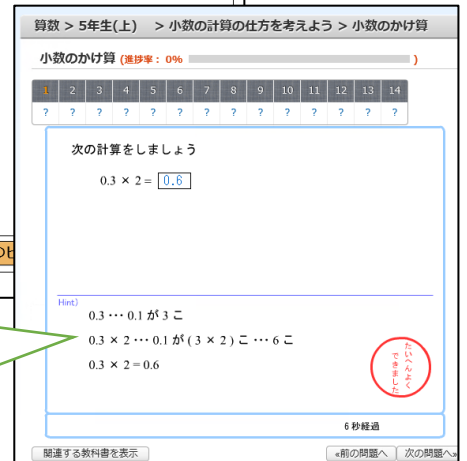
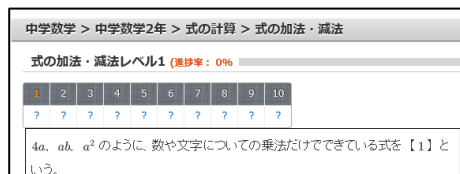
④いよいよ学習のスタート!

算数・数学



答えを入力します。

小学校の算数から中学校の数学まで、答え合わせや解説もしてくれます。



## 理科

理科 > 中学1年 > 身のまわりの現象 > 光の世界

光の世界 (進捗率: 0%)

1 2 3 4 5 6 7 8 9  
? ? ? ? ? ? ? ? ?

下の図を見て、次の問いに答えよ。  
光をbの方向から当てたとき、反射する方向はa～iのうちどれか。  
また、その時の反射角は何度になるか。

反射する光の向きは   
反射角は °

次のヒント 1/

解答する

関連する教科書を表示

◀前の問題へ ▶ 次の問題へ▶

## 社会

社会科 > 地理 > 日本 > 都道府県

都道府県【標準編】 (進捗率: 5%)

1 2 3 4 5 6 7 8 9 10 11 12 13 14 15 >>  
○ ○ ? ? ? ? ? ? ? ? ? ? ? ? ?

次の問題に答えなさい。

日本の都道府県の中で人口が最も少ないのは何県か。

県

次のヒント1/3

解答する

関連する教科書を表示

◀前の問題へ ▶ 次の問題へ▶

## 英検リスニング・筆記

第一回

英検4級筆記

次の会話について( )に入れるのに最も適切なものを1～4の中からひとつ選びなさい。

Daughter: The phone is ringing, Mom.  
Mother: ( ) Brenda? I'm washing the dishes.

1. Can I take a message,
2. Do you have a pen,
3. Will you turn it down,
4. Can you answer it,

答えの選択: 1

解答する

理解度テスト 1 / 10

Copyright © Chitose Institute of Science and Technology. Developed by CS21 Solution Development Team.

理科や社会の問題も豊富です。  
解答すると「次の問題」に進んでいくこともできます。

英検のリスニング問題や筆記問題もあるので、英検の学習をしたい人にはうってつけです。

- アカウントとパスワードは、お子さんが通う学校から配付されます。
- 電子機器 (PC, タブレット, スマートフォンなど) の準備やインターネットへの接続は、各家庭で行ってください。
- アカウントの取得ならびにeラーニングシステムの使用にあたり、氏名や生年月日, 学校名などの個人情報の取扱いはありませんので, 安心してお使いいただけます。
- ご不明な点は, 各学校へお問い合わせください。

お家で過ごそう,  
楽しく過ごそう!



(釧路市動物園 ミルク)→